

Les compétences travaillées	Niveau 1 : MI	Niveau 2 : MF	Niveau 3 : MS	Niveau 4 : TBM
<b>D4 - Extraire les informations utiles</b>	Aucune production. OU Très peu d'informations tirées des documents et/ou hors sujet	Quelques informations saisies ou déformées.	Majorité des informations saisies avec exactitude.	Tous les documents sont exploités avec exactitude et cohérence

**Situation de départ :**

- Sandrine et Yoann sont un couple qui ne désire pas avoir d'enfants en raison de leur situation.
- Joëlle vient d'avoir un rapport sexuel avec son compagnon Eric. Joëlle n'a pas pris régulièrement sa pilule contraceptive ce mois-ci. Le problème est qu'ils ne désirent pas avoir d'enfant tout de suite.

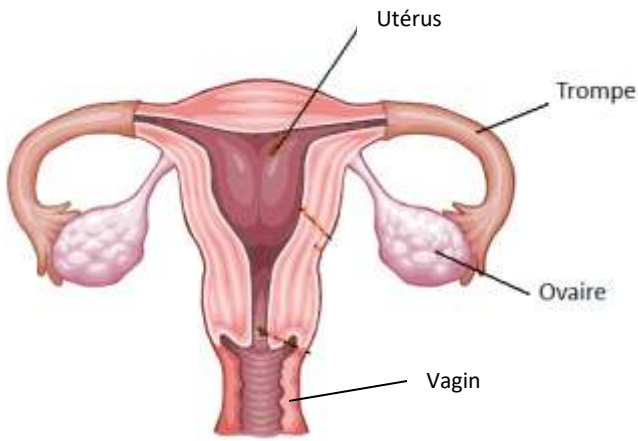
**Pb : Comment empêcher la survenue d'une grossesse**

**Consignes :**

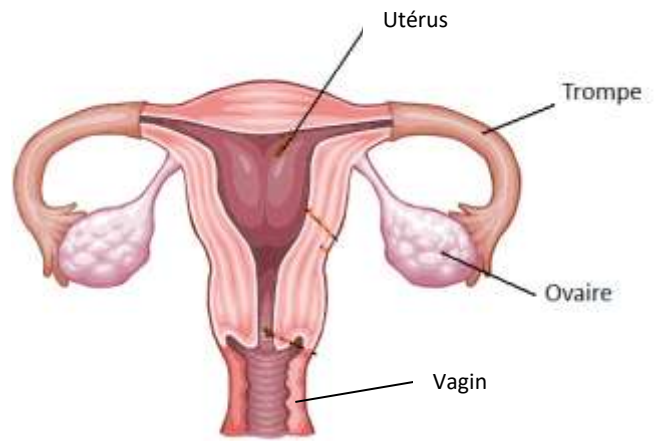
1. Complète le tableau suivant en utilisant le livre Hatier pages 346 et 347 et Didier pages 310 et 311. Ce tableau pourra être donné à Sandrine et Yoann.
2. Localise sur le schéma de l'appareil génital de la femme, les trois sites d'action des méthodes contraceptives étudiées avec des croix de couleurs.
3. Si tu étais médecin, que conseillerais-tu à Joëlle et Eric sur la méthode à utiliser avec ses avantages et ses inconvénients. Utilise le livre Hatier pages 346 et 347 et Didier pages 310 et 311 pour trouver tes arguments.

Nom de la méthode	Description succincte	Types d'action :	
		<ul style="list-style-type: none"> <li>• Empêche la production de cellules reproductrices</li> <li>• Empêche la rencontre des cellules reproductrices</li> <li>• Empêche l'implantation de l'embryon dans l'utérus.</li> </ul>	Protège du virus du SIDA (Oui ou non)
<b>Pilule contraceptive</b>			
<b>Implant contraceptif</b>			
<b>Stérilet</b>			
<b>Préservatif</b>			

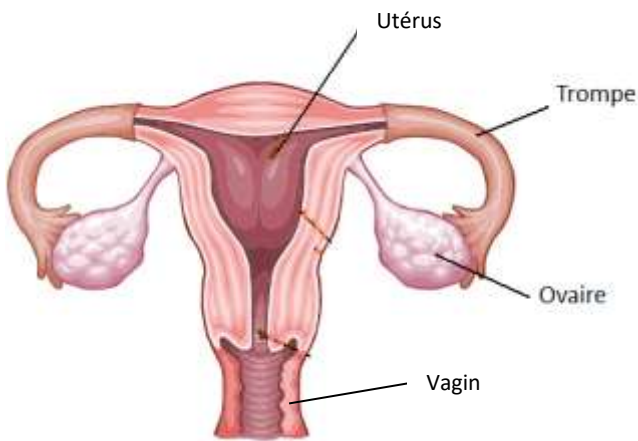
**Schéma de l'appareil génital de la femme**



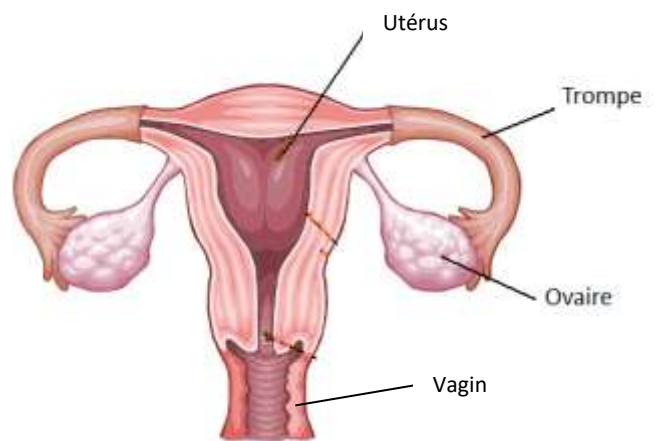
**Schéma de l'appareil génital de la femme**



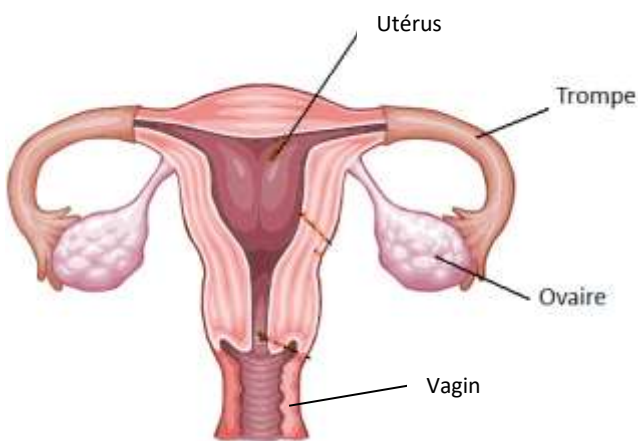
**Schéma de l'appareil génital de la femme**



**Schéma de l'appareil génital de la femme**



**Schéma de l'appareil génital de la femme**



**Schéma de l'appareil génital de la femme**

